



思想品德、历史、地理试卷

一、选择题:本大题共31小题,第1—12小题为思想品德试题,第13—24小题为历史试题,第25—31小题为地理试题;每小题2分,共62分。在每小题列出的四个选项中,只有一项是最符合题目要求的,请在答题卡上将正确答案代号涂黑。

1. 中国共产党第十八届中央委员会第三次全体会议,于2013年11月9日至12日在北京举行。全会审议通过了《中共中央关于_____若干重大问题的决定》。
A. 深化财税体制改革 B. 全面深化改革
C. 推进城镇化建设 D. 加快转变政府职能

2. 2014年2月22日至23日,_____教育实践活动中央督导组总结中央巡回督导组培训会议在北京召开。活动领导小组组长刘云山强调,要坚持从严从实督导,确保第二批教育实践活动取得群众满意的实效。
A. 党的基本路线 B. 科学发展观 C. 党的群众路线
D. 中国梦、我的梦

3. 党的十八届三中全会决定“启动实施一方是独生子女的夫妇可生育两个孩子的政策”。对启动实施“单独二胎”政策理解错误的是
A. 它是我国生育政策的重大调整完善 B. 它顺应了人民群众的期盼
C. 它有利于社会和谐稳定 D. 它一定会导致人口暴涨

4. 刘伟是一个普通的北京男孩,10岁时因意外触电而失去双臂,但他没有意志消沉,19岁时,他开始学习用双脚弹钢琴,凭借超人的毅力和悟性,一年内达到了钢琴7级的水平。23岁时,他登上了维也纳金色大厅舞台,让世界见证了中国男孩的奇迹。刘伟的事迹告诉我们,面对挫折要
A. 拼搏一阵,迎难而上 B. 冷静分析,自我放弃
C. 愈挫愈勇,挑战到底 D. 自我疏导,自我安慰

5. 2014年5月23日,咸宁市中级人民法院对刘汉、刘维等36人组织、领导、参加黑社会性质组织以及故意杀人罪等案件一审公开宣判,共判处5人死刑,5人死缓,2人有期徒刑,4人无期徒刑,22人有期徒刑。从犯罪的最本质特征看,他们的行为
A. 触犯了刑法 B. 扰乱了社会秩序
C. 具有严重社会危害性 D. 应受刑罚处罚

6. 家庭是绿洲,我们受了委屈,常常回家诉说;我们获得快乐,常常与家人分享;我们遇到困难,往往向家人求助。这说明家是我们的
A. 娱乐天地 B. 情感栖息地 C. 发展大本营 D. 物质生活的后盾

7. 2013年7月1日,新修订的《中华人民共和国老年人权益保障法》开始施行。新法规定,家庭成员应当关心老年人的精神需求,不得忽视、冷落老年人;与老年人分开居住的家庭成员,应经常看望或者问候老年人。这一举措属于我国权利保障中_____的内容。
A. 社会保障 B. 物质保障 C. 司法保障 D. 立法保障

8. 从2013年起,我国全面开展学生体质健康检测,及时向社会公布体育督导结果,对学生体质健康水平持续三年下降的地区和学校,在教育工作评估和评优中实行“一票否决”。这是因为
A. 生命健康权是公民享有的一项重要的权利
B. 只有学校才能保护公民的生命健康权
C. 生命健康权是公民基本的权利
D. 生命健康权是公民参加一切社会活动、享有其他一切权利的基础

9. 2014年1月8日,监察部就5起危害食品安全责任追究典型案例发出通报,强调保障食品安全是各级政府的重大责任,要求各级检察机关加强监督检查,用最严谨的标准、最严格的监管、最严厉的处罚、最严肃的问责,确保广大人民群众“舌尖上的安全”。用四个“最严”向食品安全问题宣战
①有利于保障广大人民群众的安全权 ②有利于促进经营者依法规范经营行为
③将不再出现危害食品安全的违法犯罪行为 ④将使消费者的合法权益不再受到侵害
A. ①② B. ①②③ C. ①③④ D. ①②③④

10. 2013年8月,环球集团在多功能厅举行了团队协作与拓展训练。通过这样一个训练活动,大家充分认识到了团队的力量,也让员工们明白任何一个人或部门都不是孤立存在的个体,只有团结协作才能实现共同发展。上述材料告诉我们
A. 人多力量大,人多好办事,人越多越好 B. 集体的力量取决于其成员数量的多少
C. 事业的成功主要靠个人的顽强拼搏 D. 团结的集体才有凝聚力和战斗力

11. 民族团结是我国处理民族关系的原则之一。下列不利于维护民族团结的是
A. 尊重各民族的宗教信仰和风俗习惯 B. 大力培养和使用少数民族干部
C. 保障各少数民族的合法权利和利益 D. 东突分子在新疆制造恐怖袭击事件

12. 2008年以来,检察机关加强举报中心建设,开通全国统一的12309举报电话,最高人民法院和1161个地方检察院建立网上举报平台,构建了来信、来访、电话、网络“四位一体”举报体系。这有利于保障公民依法行使
A. 建议权 B. 立法权 C. 监督权 D. 决定权

13. 春秋战国时期,各学派纷纷著书立说,形成了“百家争鸣”的学术繁荣局面。其中道家学派创始人墨子的主张是
A. 无为而治 B. 兼爱、非攻 C. 春秋无义战 D. 仁政

14. 2000年前,丝绸是中国的名片;1000年前,瓷器是中国的名片;500年前,茶叶是中国的名片……,其中与“丝绸是中国的名片”有关的历史事件是
A. 文景之治 B. 昭君出塞 C. 张骞出使西域 D. 罢黜百家,独尊儒术

15. “道媚幼绝,绝代更无”、“飘若浮云,矫若惊龙”是后人对哪位书法家书法的评价?
A. 柳公权 B. 米芾 C. 赵孟頫 D. 王羲之

16. “文景之治”、“贞观之治”两个盛世出现的共同原因有
①实行科举取士 ②吸取前朝灭亡的教训 ③提倡节俭 ④减轻赋税,发展农业生产
A. ①②④ B. ①②③ C. ①③④ D. ②③④

17. 中国新民主主义革命开始的标志是
A. 五四爱国运动 B. 新文化运动 C. 南昌起义 D. 中国共产党的诞生

18. 1927年,南昌起义失败以后,朱德、陈毅率领南昌起义的部分队伍,同毛泽东率领的工农革命军会师,建立了中国第一个农村革命根据地。这个根据地是
A. 井冈山革命根据地 B. 鄂豫皖革命根据地
C. 晋察冀革命根据地 D. 绥远革命根据地

19. 习近平书记说,学习焦裕禄时上初中,当时政治课老师读报,读着读着便哽咽了,听着听着我们也流泪了。总书记接着说,焦裕禄精神是永恒的。焦裕禄被誉为
A. “最可爱的人” B. “党的好干部” C. “铁人” D. “两弹元勋”
20. 下列史实与邓小平有关的
①领导南昌起义 ②挺进大别山 ③改革开放 ④“一国两制”构想
A. ①②③ B. ①②④ C. ②③④ D. ①③④

21. 下列关于“文化大革命”的叙述,错误的是

A. “文革”中,林彪、江青一伙互相勾结,形成了两个反革命集团
B. “文革”期间,全国出现了学校停课、工厂停工“闹革命”的动乱局面
C. 为防止资本主义复辟,中共中央果断决定发动文化大革命,深得民心
D. “文化大革命”结束的标志是粉碎江青反革命集团

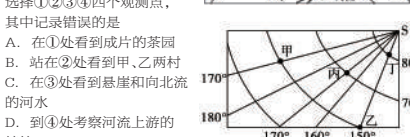
22. 下列关于文艺复兴的叙述,正确的是
①开始于希腊 ②要求以人为中心,而不是以神为中心 ③但丁被誉为文艺复兴时期的第一位诗人 ④推动了欧洲文化思想领域的繁荣,为欧洲资本主义社会的产生奠定了思想文化基础
A. ①②④ B. ②③④ C. ①②③ D. ①③④

23. 下列关于楔形文字的叙述,正确的是
A. 由两河流域的苏美尔人创造 B. 通常被刻在庙宇、宗教纪念物和纸草上
C. 对以后的字母文字产生了重要影响 D. 由古代埃及人最早创造和使用

24. 前苏联有一个笑话:农夫伊万在河里捉到一条大鱼,高兴地回到家里对老婆说:“看,我们有炸鱼吃了!”老婆说:“没有油啊。”伊万说:“那就煮。”老婆说:“没锅。”伊万说:“那就烤。”老婆说:“没有柴。”伊万气坏了,走到河边把鱼扔了回去。那鱼在水里划了一个半圆,上身出水,举起右鳍激动地高呼:“斯大林万岁!”该笑话反映的是
A. 农民生产积极性受到极大的损害 B. 个人崇拜达到相当严重的程度
C. 新经济政策恢复自由贸易的后果 D. 高度集中的经济体制带来的弊端

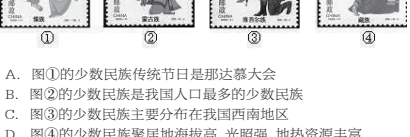
咸宁市某学校地理兴趣小组开展了一次地理考察,并绘制了等高线地形图,如下图所示。据图完成25—26题。
25. 从他们绘制的地形图中,可以估算悬崖顶部海拔高度可能是
A. 150m B. 280m C. 340m D. 360m

26. 考察小组选择①②③④四个观测点,其中记录错误的是
A. 在①处看到成片的茶园
B. 站在②处看到甲、乙两村
C. 在③处看到悬崖和向北流的河水
D. 到④处考察河流上游的楠竹



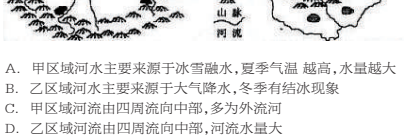
27. 读右边经纬网示意图,下列相关叙述正确的是
A. 甲地经纬度为(170°E,60°S)
B. 甲、乙、丙、丁四地中,既位于东半球又位于寒带的是丁
C. 地球自转一周时,甲、丙、丁三地中经过距离最长的是丙
D. 丙地位于乙地的西南方向

28. 方寸邮票也能体现一个国家、地区或民族的经济、历史、文化、风土人情、自然风貌等特色。下面是我国发行过的几张有关少数民族内容的邮票,下列说法正确的是
A. 图①的少数民族传统节日是那达慕大会
B. 图②的少数民族是我国人口最多的少数民族
C. 图③的少数民族主要分布在我国西南地区
D. 图④的少数民族聚居地海拔高,光照强,地热资源丰富



29. 读右图漫画“鲸吞农田”,请回答第29题。
29. 下列措施不能有效解决漫画反映的问题的是
①控制人口增长 ②跨流域调水 ③保护耕地 ④垃圾分类处理
A. ①③ B. ①④ C. ②③ D. ②④

30. 关于甲、乙两区域河流特征的描述,正确的是
A. 甲区域河水主要来源于冰雪融水,夏季气温越高,水量越大
B. 乙区域河水主要来源于大气降水,冬季有结冰现象
C. 甲区域河流由四周流向中部,多为外流河
D. 乙区域河流由四周流向中部,河流水量大



31. 下列属于甲区域代表性农产品的是
①棉花 ②柑橘 ③葡萄 ④椰子 ⑤天然橡胶
A. ①② B. ①③ C. ③④ D. ③⑤

二、非选择题:本大题共11小题,(思想品德)第32小题5分,第33小题7分,第34小题7分,第35小题7分;(历史)第36题6分、第37题4分、第38题5分、第39题5分、第40题6分;(地理)第41题5分、第42题6分;共63分。
32. 下面是某中学七年级学生张杨在2014年“五一”放假期间的一些生活片段:
5月1日,爸爸妈妈带我去游潜隐水湖、陆水湖,通过观光游览,我感受到了祖国山河的壮丽、景色的迷人。晚上陪爷爷读报纸,练书法,一天都觉得心旷神怡。
5月2日,上午在小区附近的游戏厅玩游戏,连吃饭都忘记了,真过瘾;下午和小学同学一起打麻将、抽烟……虽筋疲力尽,但我觉得非常刺激。

阅读上述材料,运用《思想品德》七年级上册的有关知识回答:
(1)请指出张杨同学生活片段中的庸俗情趣,并说说这些庸俗的生活情趣对张杨同学产生怎样的影响。(2分)
(2)请你就青少年应该如何追求高雅的生活情趣给张杨同学提几点建议。(3分)

33. 据楚天都市报报道,2014年4月28日上午,咸宁市实验小学沸腾了。升旗仪式上,该校德育副校长洪耀明当着4000余师生的面,兑现了之前的承诺,“只要学生们不乱扔垃圾,我就给亲嘴”。亲嘴的照片被发到网上,引起了众多网友的热议。学生家长吴女士说,兑现承诺需要勇气,校长履行诺言对孩子来说是一个示范,让孩子们在今后都要做一个守信的人。
阅读上述材料,结合时事政治和《思想品德》八年级上册的有关知识回答:
(1)该校副校长的行为践行了社会主义核心价值观的哪一价

值准则?(1分)
(2)你认为背离这一价值准则对我们有哪些危害?(2分)
(3)在日常生活中,我们应如何践行这一价值准则?(4分)
34. 材料一:2013年9月27日,教育部下发《关于深入开展节能环保节水活动的通知》,决定从2013年秋季开学起,在全国各级各类学校和幼儿园开展节能环保节水节电活动。
材料二:2014年4月24日,十二届全国人大常委会第八次会议通过的修订后的环保法规定,企业事业单位和其他生产经营者违法排放污染物,将受到严厉处罚。

阅读以上材料,结合《思想品德》九年级上册的有关知识回答:
(1)上述材料体现了我国坚持哪些基本国策与发展战略?(3分)
(2)哪些国情决定我国必须开展节能环保节水节电活动和严厉处罚违法排污行为?(2分)
(3)为履行节约资源、保护环境的义务,我们应养成什么样的生活习惯?(2分)

35. 材料一:据英国技术预测专家詹姆斯·马丁测算,人类知识的倍增周期在19世纪约为50年,20世纪前半叶约为10年左右,到70年代缩短为5年,80年代以来几乎到了3年翻一番。与此同时,人类知识老化程度加快,一个人所掌握知识的半衰期,在15世纪为80—90年,19到20世纪初约为30年,60年代为15年,进入80年代已经缩短为5年左右。
材料二:党的十六大报告关于全面建设小康社会的奋斗目标中提出:“形成全民学习、终身学习的学习型社会,促进人的全面发展。”

材料三:近代著名教育家陶行知大力倡导终身教育,他主张“活到老,干到老,学到老,用到老”。
阅读上述材料,结合《思想品德》九年级上册的有关知识,以《终身学习 持续发展》为题写一篇政治小论文。
要求:(1)紧扣材料;(2)观点正确;(3)联系实际;(4)语言通顺;(5)字数在300字左右。

36. 材料一:郑和是明代杰出的航海家,1405—1433年,他七下西洋,最远到达非洲东岸和印度洋沿岸。他秉承明政府命令,同亚非各国发展和平友好关系,各国也派使节和明朝通好。
——《明史·郑和传》
材料二:承万能主宰的佑助,我在1492年发现新大陆以及大批岛屿……而王上依据我的陈述,在我所发现的土地上建立殖民地。主宰赐福,我征服该岛并使他的居民纳贡。
——哥伦布的遗言(节录)

材料三:郑和下西洋比欧洲航海家哥伦布、达·伽马和麦哲伦的航行都早得多,远航规模也大得多。但郑和下西洋后,明朝的经济仍然是以自给自足的自然经济为主体,资本主义经济仍处于萌芽阶段。而欧洲在新航路开辟以后,资本主义经济却得以迅速发展。
——《历史教师教学用书》七年级下册

阅读上述材料,结合所学知识,回答下列问题:(6分)
(1)郑和的远航有何历史意义?(2分)
(2)新航路的开辟,对世界产生了什么影响?(2分)
(3)郑和下西洋和欧洲航海家开辟新航路,对明朝和欧洲的经济带来了截然不同的结果,试说说产生这种结果的原因。(2分)

37. 材料一:希腊需要援助,需要得很急迫,而且数量很大……希腊和土耳其是内外受到共产主义威胁的自由国家,美国也不能让这些国家孤立无援。这种做将在中东、意大利、德国和法国树立一个鲜明的榜样……我们的政策就是不管在什么地方,如果自由受到威胁,我们就要加以援助。
——《杜鲁门回忆录》

材料二:无论何时,任何一缔约国中任何一国领土之完整、政治独立或安全遭受威胁,各缔约国应共同协商。各缔约国同意对欧洲或北美之一个或多个缔约国之武装攻击,应视为对缔约国全体之攻击……
——《北大西洋公约》
材料三:1965年5月,苏联、波兰、捷克、匈牙利、罗马尼亚、保加利亚、阿尔巴尼亚、民主德国8国在华沙召开欧洲和平与安全第二次会议,签署了《友好合作互助条约》,即《华沙条约》。
——《世界现代史》


阅读上述材料,结合所学知识,回答下列问题:(4分)
(1)“杜鲁门主义”的主要内容有哪些?(2分)
(2)两极格局形成的标志是什么?(2分)

38. 华盛顿会议是在什么样的历史背景下召开的?对中国有何规定?华盛顿会议的召开有何历史意义?(5分)
39. 中国共产党十一届三中全会的主要内容是什么?(5分)
40. 阅读下列材料,探究下列问题:(6分)
材料一:甲午战争是一个命运转折点。随着北洋舰队的全军覆没,中国腐朽至极的封建制度走到了它的尽头。
——《人民日报》:从甲午战争的废墟上崛起

材料二:2014年2月27日,十二届全国人大常委会决定,将9月3日确定为中国人民抗日战争胜利纪念日,将12月13日设立为南京大屠杀死难者国家公祭日。
材料三:国务院总理李克强曾表示,钓鱼岛及其附属岛屿自古以来就是中国的固有领土,中国对此拥有无可争辩的主权,我们将坚决维护对钓鱼岛的主权……
(1)清政府在甲午战争失败后,被迫签订了什么条约?甲午战争中北洋舰队的全军覆没宣告我国什么近代化探索运动的失败?(2分)

(2)你认为将“南京大屠杀死难者国家公祭日”设在12月13日的原因是什么?(1分)
(3)请用一则史实说明“钓鱼岛及其附属岛屿自古以来就是中国的固有领土”。(1分)

(4)2014年又是一个甲午年,有人认为是中日两国在这一年会因为钓鱼岛问题再次开战。中日两国真会爆发战争吗?请你结合所学历史知识判断,并简述理由。(2分)
41. 读图,回答下列问题。(5分)



(1)甲图表示的节气是____,此时,太阳直射点位于____(重要纬线的名称)。(2分)
(2)如甲图所示时间,该地地球位于乙图所示公转轨道中的____(填序号)位置。图丙是四个昼夜长短比例示意图(阴影部分表示夜长),能表示咸宁市这一天昼夜长短的是____(填序号)。(2分)
(3)今天(6月20日)正午时分,咸宁市(30°N,114°E)某学校旗杆的影子与____图所示最相似。(1分)

42. 阅读材料,回答下列问题。(6分)
材料一:环渤海经济圈是中国乃至世界上城市群、工业群、港口群最为密集的区域之一。该经济圈土地占全国比例约为5.4%,人口约为17.5%,国民生产总值约占26.2%。
材料二:“环渤海部分地区矿产、交通示意图”(甲图)。
材料三:2013年2月14日,中央气象台发布雾霾预报:今日,我国华北、黄淮等地将出现雾霾天气(如乙图)。据研究表明,雾

霾天气形成的根本原因在于污染物排放量大,污染源主要有:工业生产排放的各种有害物质,燃煤排放物,机动车尾气排放和建筑工地的扬尘。
甲 乙

(1)甲图中A是我国工业基地,B为____山脉,C是通过我们咸宁市的____铁路(填铁路线名称)。(3分)
(2)雾霾天气导致交通事故高发、高速封闭、飞机停飞等,不仅影响人们的正常生活和交通出行,而且严重危害身体健康。为改善雾霾天气,下列措施不正确的是(1分)
A. 调整能源结构,减少煤炭的使用 B. 优化产业结构,改造高耗能、高污染企业
C. 倡导绿色出行,减少汽车尾气排放 D. 杜绝建筑施工,减少工地扬尘

(3)2013年2月14日,环渤海经济圈成为今天的雾霾主要重灾区,请结合相关材料,试分析该地区形成雾霾天气的地理因素?(提示:从雾霾成因的角度思考)(2分)

答案部分:

一、选择题:本大题共31小题,每小题2分,共62分。
1、B 2、C 3、D 4、C 5、C 6、B 7、D 8、D 9、A 10、D 11、D 12、C 13、B 14、C 15、D 16、D 17、A 18、A 19、B 20、C 21、C 22、B 23、A 24、D 25、D 26、C 27、B 28、D 29、D 30、A 31、B

二、非选择题:本大题共11小题,(思想品德)第32题5分,第33题7分,第34题7分,第35题7分;(历史)第36题6分,第37题4分,第38题5分,第39题5分,第40题6分;(地理)第41题5分,第42题6分;共63分。
32.(1)游戏厅玩游戏、打麻将、抽烟。这些庸俗的生活情趣不利于张杨的身心发展,甚至有害于他的身心健康。(2分)
(2)①培养乐观、幽默的生活态度;②善于将好奇心转化为浓厚的兴趣,避免盲目从众,杜绝不良嗜好;③多参加丰富的文化生活;④提升情趣,陶冶情操。(评分说明:答对三点即可得满分3分)

33.(1)诚信(1分)
(2)①难以在社会上立足;②既伤害别人,也伤害自己;③事业难以成功④产生信任危机。(评分说明:言之有理,写出两点即可得满分2分。)
(3)①对守信,对事负责;②坚持诚实,坚持实事求是;③在涉及利益冲突的问题时,要站在多数人利益一边;④在眼前利益与长远利益冲突时,要站在长远利益一边;⑤在情与法的冲突中,要站在法律一边;⑥要结合具体的情境,在现实中作出正确的诚信选择。(评分说明:答出其中的四点,即可得满分4分。)

(4)①节约资源、保护环境;可持续发展战略。(3分)
34.(1)①我国自然资源总量大、种类多,但人均资源占有量少,开发难度大,总体上资源短缺;②我国环境问题和生态破坏严重。(或生态环境恶化的趋势已初步得到遏制,部分地区有所改善,但目前我国环境形势依然相当严峻,不容乐观。)(2分)
(2)随手关灯;及时关闭水龙头;没吃完的饭菜不随便浪费;不乱扔垃圾;不随地吐痰;不用一次性碗筷……(评分说明:答出两点,意思相同或相近,言之有理,均可给满分2分)

35. 评分说明:
(1)不足200岁的最多只能得3分;
(2)观点正确,语句通顺,文字表达清楚,即可得基本分4分;
(3)能结合材料,联系实际,有一定创新,可酌情加分;
(4)最高分不超过7分。

36.(1)郑和的远航,促进了中国和亚非各国的经济交流,加强了我国和亚非各国的友好关系。(2分)
(2)新航路开辟以后,从欧洲到亚洲、美洲和非洲等地的交通往来日益密切,世界开始连成一个整体;(1分)欧洲大西洋沿岸工商业经济繁荣起来,促进了资本主义的产生和发展。(1分)
(3)郑和下西洋主要是为加强同海外各国的联系,进行友好往来,增进明朝与海外各国的友谊;而欧洲新航路开辟以后,西班牙、葡萄牙等大西洋沿岸国家随之发动对非洲、美洲等地的殖民侵略,抢占市场,进行血腥的资本原始积累,资本主义经济从得以迅速发展。(2分,符合题意,言之成理即可给分)

37.(1)遏制共产主义,干涉别国内政,加紧控制其它国家。(2分,答对1点给1分,答对2或3点给2分)
(2)北大西洋公约组织和华沙条约组织的成立,标志着两极格局最终形成。(2分)

38.(1)背景:巴黎和会虽然暂时调整了帝国主义国家在西方的关系,但他们在东亚、太平洋地区的矛盾仍然十分尖锐,日美之间的矛盾尤为激烈。(1分)在美国的倡议下,1921—1922年,美、英、法、日、意、荷、比、葡和中国九国代表在华盛顿举行会议。在会议上起主要作用的是美、英、日三国。(1分)
(2)1922年,九国代表签署了关于中国问题的《九国公约》,这个公约宣称:尊重中国的主权、独立与领土的完整,(1分)遵守各国在中国的“门户开放”、机会均等的原则。(1分)
(3)华盛顿会议是巴黎和会的继续,他确立了帝国主义在东亚、太平洋地区的统治秩序。(1分)

39. 这次会议彻底否定了“两个凡是”的方针,重新确立解放思想、实事求是的思想路线;(2分)停止使用“以阶级斗争为纲”的口号,做出把党和国家的工作重心转移到经济建设上来,实行改革开放的伟大决策;(2分)会议实际上形成了以邓小平为核心的党中央领导集体。(1分)

40.(1)中日《马关条约》。(1分) 洋务运动。(1分)
(2)因为侵华日军从1937年12月13日占领南京后六周之内,屠杀了手无寸铁的中国人民和放下武器的士兵达三十万人以上。(1分)
(3)示例:清朝前期,中国的疆域,东南到台湾及其附属岛屿钓鱼岛、赤尾屿等。(说明:如用其他相应史实证明也可得分,1分)
(4)观点一:不会爆发战争。(1分)理由:①和平和发展是世界发展趋势,中日两国不可能逆世界潮流而动。②现在是一个经济全球化的时代,中日经济联系密切,受经济因素制约,不可能开战。③当今世界正处在政治多极化形成的过程中,各国都在致力于经济发展,力争在新的世界格局中占据有利位置,中日也不例外。④两国人民不会忘记第二次世界大战的惨痛教训,追求和平,反对战争的力量强大等。(说明:回答一点即可,1分,其他答案只要言之成理也可给分)

观点二:会爆发战争。(1分)理由:①当今世界,霸权主义利用地区纠纷,激化矛盾,引发军事冲突的事情时有发生。②钓鱼岛问题事关国家主权和领土完整,中日两国没有妥协的余地,最终只能通过军事手段才能解决。③近年来,日本军国主义势力抬头,不断挑战中国和平的底线,挑战二战后的国际秩序。④日本历史上曾多次入侵中国等。(说明:回答一点即可,1分,其他答案只要言之成理也可给分)

41.(1)夏至(日)北回归线(或23.5°N)(2)① ④ (3)B(每空1分)
42.(1)辽中南(1分)太行山(1分)京广(1分) (2)D(1分)
(3)环渤海经济圈工业发达,高耗能、高污染企业多,生产排放大量污染物;地处北方地区,工业生产 and 冬季生活取暖用煤量大,燃烧排放量大;该地人口密集,机动车数量庞大,尾气排放量大惊人;城市集中且规模较大,城市建设广布,扬尘危害大。(2分,四点中任答两点给满分)