

湖北省咸宁市2013年初中毕业生学业考试

物理试题

考生注意: 1. 本试卷分试题卷(共6页)和答题卡; 全卷24小题, 满分80分; 考试时间80分钟. 2. 考生答题前, 请将自己的学校、姓名、准考证号填写在试题卷和答题卡指定的位置, 同时认真阅读答题卡上的注意事项. 考生答题时, 请按照题号顺序在答题卡上各题相应的答题区域内作答, 写在试题卷上无效. 3. 本试卷用到的g值一律取10N/kg; 本试卷可能用到的物理公式:

ρ = m/V, v = s/t, W = Fs, P = Fv, I = U/R, P = UI, W = Ult, P = UI, P = U^2/R, F浮 = ρ液gV排, P = ρgh

试题卷

一、选择题(本大题共10小题, 每小题2分, 共20分, 每小题只有一个选项符合题意, 请在答题卡中将符合题意的代号涂黑.)

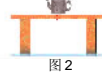
1. 在如图1所示的四种现象中, 能体现“分子在不停地运动”的是:



A. 荷花飘香 B. 柳絮飘舞 C. 雪花飞扬 D. 落叶纷飞

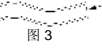
2. 如图2所示, 放在桌面上的茶壶处于静止状态, 对于该静止的茶壶, 下列说法中正确的是:

- A. 茶壶受到重力和桌面对它的支持力, 这是一对平衡力
B. 茶壶受到重力和桌面对它的支持力, 这是一对相互作用力
C. 茶壶静止是因为桌面对它的支持力小于茶壶受到的重力
D. 茶壶静止是因为桌面对它的支持力大于茶壶受到的重力



3. 光纤通信的主要用途是用来传递信息, 进行通讯. 要把传输的信息变成光信号在光纤中传播, 如图3所示, 那么光在光纤中的传播方式是:


- A. 沿着光纤的中轴线直线传播
B. 沿着光纤的外壁多次反射传播
C. 沿着光纤的内壁多次反射传播
D. 沿着光纤螺旋式的曲线传播



4. 关于声现象, 下列说法正确的是:

- A. 声音的传播可以不需要介质
B. 声音的振幅越大, 音调越高
C. 某些路段“禁鸣喇叭”, 这是在声音传播过程中隔离和吸收声波
D. 人能分辨出不同乐器发出的声音, 主要是根据它们发声的音色不同

5. 如图4所示的四种现象中, 属于光沿直线传播现象的是:



A. 水中的筷子看 B. 桥在水中的倒影 C. 放大镜把文字放大 D. 阳光在树荫下形成圆形光斑

6. 我们可以用物体经过的路程来描述物体的运动, 还可以从初位置到末位置作出一条线段来表示物体位置的变化. 如图5所示, 某物体分别沿两条路径从A点运动到B点: 第一次先从A到D, 再从D到B; 第二次直接从A到B. 则物体的两次运动:

- A. 路程相等, 位置的变化相同
B. 路程不等, 位置的变化相同
C. 路程相等, 位置的变化不同
D. 路程不等, 位置的变化不同



7. 如图6所示, 是电磁现象的四幅实验装置图, 下列分析中不正确的是:



A. 图甲装置是研究电磁感应现象 B. 图乙装置是研究磁场对电流的作用
C. 图丙装置是研究电流周围存在着磁场 D. 图丁装置是电动机的结构原理图

8. 下列说法中正确的是:

- A. 温度为0℃的物体没有内能
B. 物体的内能增大一定是吸收了热量
C. 物体吸收热量后温度一定升高
D. 用丝绸摩擦过的玻璃棒靠近带正电的轻小物体会相互排斥

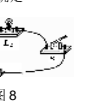
9. 如图7所示, 桌面上是两个完全相同的圆柱形平底杯子, 里面分别盛有质量相等的水和酒精, A、B两点到杯子底部的距离相等. 已知水的密度ρ水=1.0×10^3 kg/m^3, 酒精的密度ρ酒精=0.8×10^3 kg/m^3, 则A、B两点的压强PA、PB的大小关系是:

- A. PA>PB B. PA<PB C. PA=PB D. 无法确定



10. 将两只额定电压相同的小灯泡L1、L2串联在电路中, 如图8所示. 闭合开关后, 发现灯L1较暗, 灯L2较亮, 则:

- A. 灯L1的电阻比灯L2的电阻大
B. 灯L1的额定功率比灯L2的额定功率小
C. 电路中, 灯L1两端电压比灯L2两端电压小
D. 电路中, 通过灯L1的电流比通过灯L2的电流大



二、填空题(本大题共4小题, 每空1分, 共16分.)

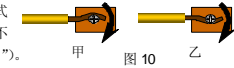
11. 踢毽子起源于汉代, 高承《事物纪原》记:“今时小儿以铅锡为钱, 装以鸡羽, 呼为毽子, 三四成群走踢. 在如图9所示的游戏中, 毽子被踢出主要表明_____可以改变物体的运动状态. 被踢出后, 毽子在上升过程中, 其动能_____, 重力势能_____.”



(选填“增大”、“不变”或“减小”), 在_____的作用下, 毽子最终会落向地面.

12. 生活处处有物理, 留心观察皆学问. 厨房中也包含着很多物理知识. 如: 抽油烟机在工作时, 由于转动的扇叶处气体的流速大, 压强_____, 从而在周围大气压的作用下将油烟压向扇口排出; 高压锅煮饭快是因为高压锅内气压大, 水的沸点_____; 洗碗时“油花”漂在水面上, 其原因是油的密度比水的密度_____; 在盛水的缸缸外表面, 夏天常常出现了一层均匀分布的小水珠, 这是水蒸气的_____现象.

13. 在家庭电路中电灯、插座、电视机的连接方式是_____ (选填“串联”或“并联”). 用电器越多电路中的总电流_____ (选填“越大”或“越小”), 为了避免导线过热而烧坏, 在电路中要_____ (选填“串联”或“并联”) 熔丝. 实际线路中发生接触不良也是很危险的, 应尽量避免, 图10是两种硬导线与螺钉压按式接线柱接法(箭头方向表示拧紧螺钉的方向), 其中不容易造成接触不良的是_____ (选填“甲”或“乙”).



14. 家庭浴室中常用的暖灯型浴霸是通过灯泡的热辐射来升高光照区域内空气温度的. 某型号浴霸由四只标有“220V 750W”的同规格发热灯组成, 如图11所示. 若当地空气的密度为1.2kg/m^3, 测得浴室的面积为6m^2, 高为2.5m. 浴室室内空气的质量m=_____ Kg; 当四只灯泡同时正常工作250s时, 发热灯加热产生的热量是_____ J. 此过程浴室内的空气温度从10℃上升到25℃, 空气的比热容为1.0×10^3 J/(kg·℃), 浴室空气吸收的热量是_____ J. 浴霸加热浴室空气的能量转化效率是_____ %.



【比热容的表达式为c = Q/(m(t-t0))】

三、作图题(本大题共3小题, 每小题2分, 共6分.)

15. 如图12所示, 正在水中上浮的木块, 请画出木块在水中受重力G和浮力F浮的受力示意图.

16. 如图13所示, 两条入射光线(或延长线)分别过凹透镜的光心O和焦点F, 分别画出经过凹透镜折射后的光线.

17. 在图14中根据小磁针静止时的指向, 标出磁体的N、S极和A点的磁感线方向.

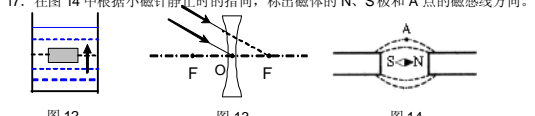
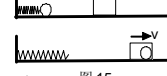


图12 图13 图14

四、实验与探究题(本大题共4小题, 共21分.)


18. (4分) 小红看到运动员拉弓射箭时, 弓拉得越弯, 箭射得越远. 小红猜想: 弹性势能的大小可能与物体的弹性形变有关.

(1)为验证其猜想是否正确, 她设计了如图15所示的实验, 将小球置于弹簧的右端, 将同一个弹簧每次压缩_____ 的长度(弹簧被压缩后未超过其弹性限度), 松开后小球弹开钻入同一位置的相同纸盒, 并留在其中, 分析比较纸盒_____ , 从而比较同一弹簧在不同弹性形变时弹性势能的大小.



(2)假若水平面绝对光滑, 本实验将_____ (选填“能”或“不能”) 达到探究目的. (3)小红根据实验现象认为: 小球推动纸盒一起移动一段距离后都要停下来, 所以弹簧、小球和纸盒具有的能量最终都彻底消失了, 你认为小红的观点是_____ (选填“正确”或“错误”) 的.

19. (6分) 在“探究凸透镜成像规律”的实验中:



(1)如图16所示, 调节烛焰、_____ 中心和光屏中心, 使之在一条与光具座平行的直线上;

(2)实验时, 蜡烛随着燃烧而变短, 光屏上的像将向_____ (选填“上”或“下”) 移动;

(3)点燃的蜡烛分别放在a、b、c、d四个不同的位置, 如图17所示, 其中蜡烛放在_____ 处所得到的实像最小; 放在_____ 处得到正立的虚像; 在_____ 处的成像规律是放大镜的原理;



(4)照相机的镜头相当于一个凸透镜. 如图18是我国海监人员正在用一台可变焦距的相机拍摄钓鱼岛, 如果要让像更大一些, 镜头焦距应该调得_____ (选填“较大”或“较小”).

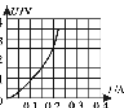
20. (6分) 如图19甲所示, 是莉莉同学“测量小灯泡的电功率”的电路图, 图19乙是实物连接图, 其中电源电压是4.5V, 小灯泡的额定电压为2.5V. (1)图19乙已连接部分电路, 请用笔画线代替导线将电路连接完整, 使滑片P向右移动时滑动变阻器接入电路的电阻变大.

(2)莉莉同学连接好电路后, 闭合开关, 移动滑动变阻器的滑片P, 发现小灯泡始终不亮, 电压表有示数, 电流表无示数, 原因可能是_____ .

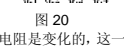


A. 电流表断路 B. 小灯泡短路 C. 小灯泡断路 D. 滑动变阻器断路

(3)排除故障后, 调节滑动变阻器的滑片P到如图位置时, 电压表的示数如图19丙所示, 其示数为_____ V; 若他想测量小灯泡的额定功率应将图19乙中的滑片P向_____ (填“C”或“D”) 端移动, 使电压表的示数为2.5V.



(4)莉莉同学多次移动滑动变阻器的滑片P, 记下多组对应的电压表和电流表的示数, 并绘制成图20所示的图像. 根据图像信息, 可算出小灯泡的额定功率是_____ W. 通过图像还可以发现灯丝的电阻是变化的, 这一现象表明:_____ .



21. (5分) 对于杠杆的原理, 我国古代也很注重研究, 在古书《墨经》中就对杆秤作了科学的说明. 某物理小组探究如图21所示的一杆秤, 通过观察和测量知道: 杆秤上标有刻度, 提纽在B点, 秤钩在A点, O点为刻度的起点(为零刻度点, 在B点左侧). 用刻度尺量出OA=l1, OB=l2.



(1)秤钩不挂重物时, 秤砣挂在O点时杆秤平衡, 则重心C应在B点的_____ 侧(选填“左”、“右”或“不确定”). 设该杆秤秤砣的质量为m, 则杆秤自身重力(不含秤砣)和它的力臂的乘积是_____ .

(2)物理小组利用空瓶(空瓶质量比秤砣质量小一些)、细线和原秤砣测出原秤砣的质量. 方法是: 用细线系在空瓶上并置于_____ 点, 慢慢往瓶中加沙子, 如果杆秤恰能平衡, 相当于新做了一个秤砣, 再把它挂在秤钩上, 移动原秤砣位置至杆秤平衡, 秤杆上的读数即为原秤砣质量.



(3)物理小组通过查资料得到“如果杆秤受两个阻力, 杆秤的平衡条件是: F1al1=F2al2+F3l3”, 如图22所示”. 则一向中实际上只要有刻度再利用科学推理也可测得秤砣质量, 方法是: 设想有两个完全一样的原秤砣甲、乙, 将甲置于A点, 乙置于B点右侧某点, 杆秤恰好平衡. 由杆秤的平衡条件可知, 量出长度l1、l2后, 只须从B点起向右量出长度_____, 该位置杆秤上的读数即为秤砣的质量m.

五、综合应用题(本大题共3小题, 共17分.)

22. (4分) 如图23所示是某型号电动巡逻车. 已知该电动巡逻车运动时所受的阻力为人和车总重的0.04倍, 某次巡逻人和车总质量为1.0×10^3 kg. 在水平路面上以15Kmh的速度匀速行驶了20min. (g取10N/Kg) 求:



- (1)巡逻车通过的路程是_____ km;
(2)巡逻车在水平路面上匀速行驶时受到的牵引力是_____ N;
(3)若电动机把80%的电能量用来牵引巡逻车克服阻力做功, 则此次巡逻电动机消耗了多少电能?

23. (5分) 如图24甲所示, 电源电压为U保持不变, R0为定值电阻. 闭合开关, 电流表A的示数为I, 电压表V1的示数为U1, 电压表V2的示数为U2. 移动滑动变阻器得到在不同电流下的U1-I图线和U2-I图线, 如图24乙所示.

? 随着电路中电流的增大, 电压表V1的示数U1_____, 电压表V2的示数U2_____. (选填“减小”或“增大”) ? 在U-I坐标中两条图线在Q点相交, 此状态滑动变阻器连入电路的阻值是_____ Ω; ? 请根据图像求电源电压U和定值电阻R0的阻值.

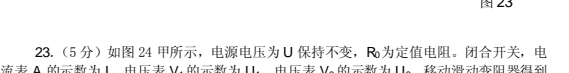


图24 甲 乙

24. (8分) 两个实心正方体A、B由密度均为ρ的同种材料制成, 它们的重力分别是GA、GB, 将A、B均放置在水平桌面上时, 如图25甲所示, 两物体对桌面的压强分别是pA、pB, 且pA:pB=1:2. 当用甲、乙两滑轮组分别匀速提升A、B两物体, 如图25乙所示, 两滑轮组重均为G0, 此时两滑轮组的机械效率之比为33:40. 若将A物体浸没在水中, 用甲滑轮组匀速提升, 如图25丙所示, 匀速提升过程A物体一直没露出水面, 此时甲滑轮组的机械效率为75%. 不计绳重和摩擦, ρ水=1.0×10^3 kg/m^3. 求:

- (1)A、B两物体的重力之比GA:GB是多少?
(2)滑轮组中的动滑轮重力G0是A物体重力GA的多少倍?
(3)A、B两个实心正方体的材料密度ρ是多少kg/m^3?



图25 甲 乙 丙

物理试卷参考答案及评分标准

说明: 定出评分标准是为了尽可能在统一标准下评定成绩. 试题的参考解答是用来说明评分标准的. 考生如按其他方法或步骤解答, 正确的, 同样给分; 有错的, 根据错误的性质, 参照评分标准中相应的规定评分.

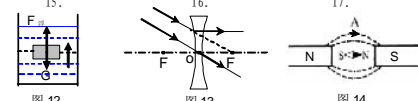
一、选择题(本大题共10小题, 每小题2分, 共20分, 每小题只有一个选项符合题意.)

Table with 10 columns: Question number, Answer A, Answer B, Answer C, Answer D.

二、填空题(本大题共4小题, 每空1分, 共16分.)

- 11. 力 减小 增大 重力 12. 小 高 小 液化
13. 并联 越大 串联 甲 14. 18 7.5×10^5 2.7×10^5 36

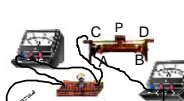
三、作图题(本大题共3小题, 每小题2分, 共6分.)



说明: (1)15题: 画对两个力的方向得1分, 画对两个力的大小得1分. (2)16题: 每画对一条光线得1分. (3)填对磁极极性, 标对磁感线方向各得1分.

四、实验与探究题(本大题共4小题, 共21分.)

- 18. (每空1分, 共4分)
(1)不同 移动的距离 (2)不能 (3)错误
19. (每空1分, 共6分)
(1)凸透镜 (2)上 (3) a、d、d (4)较大
20. (6分)
(1)如右图所示, 只能接A点, 接B点不得分(1分)
(2) C (1分)
(3) 2.20(或2.2) C (2分)
(4) 0.5 灯丝的电阻与温度的变化有关(或灯丝的电阻随温度的升高而增大) (2分)



- 21. (5分)
(1)右 mg/2 (2分)
(2)0 (1分)
(3)l1 (2分)

五、综合应用题(本大题共3小题, 共17分.)

22. (4分)
解: (1)S (1分)
(2)400 (1分)
(3)牵引力做的功 W=F*s=400N*5*10^3m=2*10^6J (1分)
电动机消耗的电能 W电 = W功 / η = 2*10^6J / 80% = 2.5*10^6J (1分)

23. (5分)
解: (1)减小 增大 (2分)
(2) 0 (1分)
(3) 由图像可知: 电源电压 U=4.5V (1分)
U1=1.5V时, 电路中的电流 I=3.0A
R0两端的电压 U0=U-U1=4.5V-1.5V=3.0V
R0的电阻 R0 = U0 / I = 3.0V / 3.0A = 1Ω (1分)
根据图像中不同的点, 只要结果正确都得满分

24. (8分)
解: (1)根据 p = F/S = G/S = mg/S = ρShg/S = ρhg 得:
hA = pA / ρg = 1/2, 所以, 体积之比 VA/VB = hA^3/hB^3 = (1/2)^3 = 1/8
A、B两物体的重力之比 GA/GB = ρVAg/ρVBg = VA/VB = 1/8 (2分)

(2)由 η = W有用/W总 = W有用/(W有用+W0) = GAh/(GAh+G0h) = GA/(GA+G0) 得:

ηA = (GA/8) / (GA/8 + G0) = 33/40 (1分)

将 GA/8 = 1/8 代入①解得: G0 = 1/4 GA (1分)

即动滑轮重力 G0 是 A 物体重力 GA 的 1/4 倍

(3)物体 A 受到三个力的作用: 竖直向下的重力 G、竖直向上的浮力 F浮、绳子对物体的拉力 T
η甲 = W有用/W总 = Th/(Th+G物) = T/(T+G物) = 75% (1分)

∴ T = 3G物 = 3/4 GA

F浮 = GA - T = 1/4 GA 即 ρ水gV排 = 1/4 ρgVA

物体的密度 ρ = 4ρ水 = 4.0×10^3 kg/m^3 (2分)

其它方法正确也得满分